


Nombre: _____

Series numéricas 2




4 12 16 28



27 24 15 9







10 14 16 17

21 17 15 7



21 17 15 7

Observa y lee:

10						
9						
8						
7						
6						
5						
4						
3						
2						
1						
						

Completa la tabla:

DISFRAZ						
Niños/as						

Contesta:

¿Cuál es el disfraz que han usado más niños/as?

¿Cuántos niños/as se han disfrazado?

Escribe V (verdadero) o F (falso):

Tres personas se disfrazaron de esqueleto

El disfraz que menos hemos visto ha sido el de demonio